

KİTAPÇIK TÜRÜ

A

T.C.
MİLLÎ EĞİTİM BAKANLIĞI
YENİLİK VE EĞİTİM TEKNOLOJİLERİ
GENEL MÜDÜRLÜĞÜ

Ölçme, Değerlendirme ve Yerleştirme Grup Başkanlığı

11. GRUP
İKTİSAT,
EKONOMİ,
İŞLETME,
MALİYE

ENERJİ VE TABİİ KAYNAKLAR BAKANLIĞI UZMAN YARDIMCILIĞI SINAVI
01/07/2012

Adı ve Soyadı :
T.C. Kimlik No :

ALANLAR	SORU SAYISI	TOPLAM SORU SAYISI	SINAV SÜRESİ (DAKİKA)
Mesleki Alan	60	100	120
Genel Kültür/Genel Yetenek	20		
ETKB'nin Görev Alanı	20		

ADAYLARIN DİKKATİNE!

1. Sınav saat **10.00**'da başlayacaktır. Sınav başladıktan sonra ilk **30** dakika dolmadan dışarı çıkmayınız.
2. Sınav sırasında sözlük, çağrı cihazı, cep telefonu, telsiz, radyo gibi elektronik iletişim araçlarını yanınızda bulundurmuyunuz. Bu araçları kullanmanız ve kopya çekmeye teşebbüs etmeniz hâlinde sınavınız geçersiz sayılacaktır.
3. Başvuru şartlarını taşımadığınız hâlde sınava girmeniz, kopya çekmeniz, başka adayın sınav evrakını kullanmanız, geçerli kimlik belgenizi ve sınav giriş belgenizi ibraz edemediğiniz durumlarda sınavınız geçersiz sayılacaktır.
4. Sınavın değerlendirilmesi aşamasında, bilgisayar ortamında yapılan kopya analizinde ikili veya toplu kopya tespiti hâlinde sınavınız geçersiz sayılacaktır.

CEVAP KÂĞIDI VE SORU KİTAPÇIĞI İLE İLGİLİ AÇIKLAMALAR

1. Cevap kâğıdınızdaki bilgilerin doğruluğunu kontrol ediniz ve cevap kâğıdınızı mürekkepli kalemle imzalayınız.
2. Kitapçık türünüzü cevap kâğıdınızdaki ilgili alana kodlayınız. Değerlendirme işlemleri cevap kâğıdındaki kodlamalara göre yapıldığından, eksik ya da hatalı kodlamalarda sorumluluk size ait olacaktır.
3. Cevap kâğıdı üzerinde kodlamalarınızı kurşun kalemle yapınız.
4. Değiştirmek istediğiniz bir cevabı, yumuşak silgiyle cevap kâğıdını örselemeden temizce siliniz ve yeni cevabınızı kodlayınız.
5. Soru kitapçığının sayfalarını kontrol ediniz, baskı hatası var ise değiştirilmesini sağlayınız.
6. Soru kitapçığının ön yüzündeki ilgili yerlere ad, soyad ve T.C. kimlik numaranızı yazınız.
7. Her sorunun dört seçeneğinden sadece biri doğrudur. Doğru seçeneği, cevap kâğıdınızın ilgili sütununa soru numarasını dikkate alarak yuvarlağın dışına taşırmadan kodlayınız. **Soru kitapçığı üzerinde yapılan cevaplandırmalar dikkate alınmayacaktır.**
8. Puanlama; **yanlış cevap sayısının dörtte biri, doğru cevap sayısından çıkarılarak** elde edilecek geçerli cevaplar üzerinden yapılacağı için cevap kâğıdı üzerinde rastgele cevaplama yapmayınız.
9. Soruları ve sorulara verdiğiniz cevapları, yanınızda götürmek amacıyla kaydetmeyiniz; hiçbir şekilde dışarı çıkarmayınız.
10. Sınav bitiminde, soru kitapçığı ve cevap kâğıdını salon görevlilerine teslim ediniz.

BAŞLAYINIZ DENİLMEYEN SORU KİTAPÇIĞINI AÇMAYINIZ.

1. Aşağıdakilerden hangisi talebin fiyat esnekliği için doğrudur?

- A) Sıfıra eşit ise birim esnektir.
- B) İkame malın varlığından etkilenmez.
- C) Talepteki nispi değişimin fiyattaki nispi değişime oranıdır.
- D) Doğrusal talep söz konusu ise her noktanın esnekliği aynıdır.

2. İktisadi hayatta paranın kullanımı ile ilgili aşağıdakilerden hangisi yanlıştır?

- A) Malların para olarak kullanıldığı dönemlerde muhafaza güçlükleri yaşanmıştır.
- B) Toplum oluşturuların ortak değerlerini yansıtır.
- C) Değerli madenler para olarak da kullanılmıştır.
- D) Günümüzde tek çeşit para vardır.

3. Doğrusal bir talep eğrisinin orta noktasında fiyatın talep esnekliği nedir?

- A) Talebin fiyat esnekliği bir ile sıfır arasında bir değerdir.
- B) Talebin fiyat esnekliği sonsuzdur.
- C) Talebin fiyat esnekliği sıfırdır.
- D) Talebin fiyat esnekliği birdir.

4. Aşağıdakilerden hangisi sabit maliyetler içinde düşünülmesi gereken kalemlerden biridir?

- A) Normal kâr
- B) Ham madde maliyetleri
- C) Direkt iş gücü maliyetleri
- D) Yakıt ve olağan bakım maliyetleri

5. Philips eğrisi yaklaşımına göre enflasyon oranı ve işsizlik oranı arasındaki ilişkiye dair aşağıdakilerden hangisi doğrudur?

- A) Kısa dönemde enflasyon oranı ve işsizlik oranı birlikte artmaktadır.
- B) Kısa dönem Philips eğrisi sıfır esnekliğe sahiptir.
- C) Uzun dönemde enflasyon oranı ve işsizlik oranı birlikte artmaktadır.
- D) Uzun dönemde enflasyon oranını artırarak işsizlik oranını azaltmak mümkün değildir.

6. Tasarruf fonksiyonu: $S = -75 + 0.8Y_d$

Yatırım: $I_0 = 40$

Kamu harcamaları: $G_0 = 70$

Transfer harcamaları: $TR_0 = 100$

Gelir vergisi oranı: $t = 0.10$

Yukarıdaki bilgiler doğrultusunda ekonominin denge gelir düzeyi aşağıdakilerden hangisidir?

- A) 45
- B) 125
- C) 250
- D) 500

7. Aşağıdakilerden hangisi Türkiye ekonomisini 5 Nisan 1994 İstikrar Kararları'na götüren süreçte krizin bir gerekçesi olarak gösterilemez?

- A) Yüksek enflasyon oranı
- B) Körfez Savaşı'nın ekonomiye yüklediği maliyetler
- C) Dış ticaret ve ödemeler bilançosu açıklarındaki artış
- D) Sermaye hareketlerinin serbest olmaması nedeniyle yaşanan dış finansman güçlüğü

8. Aşağıdakilerden hangisi İkinci Dünya Savaşı döneminde Türkiye ekonomisinde uygulanan düzenlemelerden değildir?

- A) Varlık Vergisi
- B) Muvazene Vergisi
- C) Millî Korunma Kanunu
- D) Toprak Mahsulleri Vergisi

9. Aşağıdaki ifadelerden hangisi yanlıştır?

- A) Dışsal ölçek yararları söz konusu olduğunda, birim başına maliyeti değiştiren faktör herhangi bir firmanın ölçegi olmak zorundadır.
- B) İçsel ölçek ekonomilerinin geçerli olduğu endüstrilerde sıklıkla oligopolistik piyasa yapısıyla karşılaşmaktadır.
- C) Tekelci rekabet modeli, ölçek yararlarının karşılıklı olarak yararlı ticarete yol açması konusunda net bir bakış açısı vermektedir.
- D) İçsel ölçek ekonomilerinin geçerli olduğu bir endüstride, firma sayısı arttıkça fiyat düşmektedir.

10.

	Şarap	Peynir
A ülkesi	30	30
B ülkesi	10	15

Bir işçinin bir günde üretebileceği mal miktarları yukarıdaki tabloda gösterilmiştir. Bu durumda Smith'e göre aşağıdaki ifadelerden hangisi doğrudur?

- A) A ülkesi şarap üretiminde, B ülkesi peynir üretiminde uzmanlaşmalıdır.
- B) B ülkesi her iki malın üretiminde de üstünlüğe sahip olduğundan kârlı dış ticaret olanağı yoktur.
- C) A ülkesi her iki malın üretiminde de üstünlüğe sahip olduğundan kârlı dış ticaret olanağı yoktur.
- D) B ülkesi şarap üretiminde, A ülkesi peynir üretiminde uzmanlaşmalıdır.

11. Teklif eğrileri için aşağıda yer alan ifadelerden hangisi yanlıştır?

- A) Teklif eğrisinin eğimi her noktada pozitifdir.
- B) İlk kez A. Marshall tarafından geliştirilmiştir.
- C) Teklif eğrisinin sınırını iç maliyet oranı doğrusu belirler.
- D) Belirli bir ithal malı karşılığında ne kadar ihraç malı teklif edileceğini gösterir.

12. Bir yıl ve daha kısa süreli fonların bulunduğu piyasa aşağıdakilerden hangisidir?

- A) Sermaye Piyasası B) Para Piyasası
C) Döviz Piyasası D) Altın Piyasası

13. Ani mevduat çıkışlarını karşılamak ve kârlı yatırım fırsatlarını değerlendirebilmek amacıyla bir emniyet unsuru olarak bankaların ellerinde tuttukları rezervlere ne ad verilir?

- A) Kaydi rezervler
B) Mutlak rezervler
C) Zorunlu rezervler
D) Serbest (aşırı) rezervler

14. Keynesgil para talebi teorisine göre aşağıdaki ifadelerden hangisi yanlıştır?

- A) Gelir arttıkça işlem amaçlı para talebi artar.
B) İhtiyat amaçlı para talebi gelirden etkilenmez.
C) Gelir arttıkça spekülasyon amaçlı para talebi artar.
D) Fiyat genel düzeyi arttıkça işlem amaçlı para talebi artar.

15. Bir işletmenin faaliyetlerindeki etkinliğini gösteren oranlara ne ad verilir?

- A) Kârlılık oranları
B) Likidite oranları
C) Faaliyet oranları
D) Öz kaynakların kazanma gücü

16. "Nakit oranı" nasıl hesaplanır?

- A) (Dönen varlıklar + (Stoklar-Alacaklar)) / (Kısa vadeli yabancı kaynaklar)
B) Dönen varlıklar / Kısa vadeli yabancı kaynaklar
C) Net satışlar / Ortalama alacaklar
D) Net satışlar / Ortalama stoklar

17. Bir işletmenin sermaye maliyetinin aşağıdakilerden hangisi üzerinde doğrudan etkisi yoktur?

- A) Firma değerinin belirlenmesinde
- B) Sabit oranlı büyüme modelinin hesaplanmasında
- C) Kâr maksimizasyonu sağlanmasında
- D) Nakit akımlarının bugünkü değerinin hesaplanmasında

18. Bir yatırım malının mülkiyeti finansal kiralama şirketinde kalarak, belirlenen kiralara karşılığında kullanım hakkının kiracıya verilmesi ve sözleşmede belirlenen değer üzerinden kiracıya geçmesini sağlayan bir finansman yöntemi şeklinde ilgili kanunda tanımlanan kavram aşağıdakilerden hangisidir?

- A) Faktöring
- B) Forfaiting
- C) Prefinansman
- D) Leasing

19. Bir işletme mevcut durumda 120 günlük vadeli satıştan 1 Amerikan Doları elde etmektedir. Doların değerinde meydana gelen aylık % 0,3'lük düşüş gözardı edilmeksizin bugün yerine 120 gün sonra tahsil edilen 1 Amerikan Dolarının işletmeye maliyeti ne kadar olmaktadır? (İşletmenin alacaklara bağladığı kaynakların maliyeti aylık % 1'dir. Soruyu çözerken 120 gün vadeli satışta 1 Amerikan Dolarının bugünkü değerinin hesaplanması unutulmamalıdır.)

- A) 0,012
- B) 0,04060
- C) 0,052
- D) 0,948

20. Aşağıdakilerden hangisi tutundurma faaliyetleri arasında yer almaz?

- A) Fiyatlandırma
- B) Kişisel satış
- C) Tanıtma
- D) Reklam

21. "Satış artış hızı azalır ve zamanla talep, ancak ikame edici talep hâlinde dönüşür. Satışlar ve kârlar en yüksek düzeyine ulaşmaz azalmaya başlar. Pazara pek çok rakip girmiştir ve artan maliyet nedeniyle kârlılık azalmaya başlamıştır."

Yukarıda anlatılan mamul hayat seyri dönemi aşağıdakilerden hangisidir?

- A) Tanıtma
- B) Olgunluk
- C) Büyüme
- D) Gerileme

22. Aşağıdakilerden hangisi maliyete yönelik fiyatlandırma şekillerinden biridir?

- A) Talebe yönelik fiyatlandırma
- B) Rekabete yönelik fiyatlandırma
- C) Kapalı zarf usulü fiyatlandırma
- D) Hedef fiyatlandırma

23. Üretim faktörlerinin (emek, sermaye, doğal kaynaklar) sahiplerinin özel kişi ya da kurumlar olduğu ekonomik sisteme ne ad verilir?

- A) Karma Ekonomi
- B) Sosyalist Ekonomi
- C) Serbest Piyasa Ekonomisi
- D) Planlı Ekonomi

24. Aşağıdakilerden hangisi özel girişim sisteminin temel unsurlarından değildir?

- A) Devletin yurt içindeki bütün menkul ve gayrimenkuller üzerinde tam tasarruf hakkı
- B) Kişilerin taşınır ve taşınmaz mal satın almaları, onları kullanmaları ve satma hakları
- C) Girişimcilerin faaliyetleri sonucunda ortaya çıkacak kâr üzerindeki hakları
- D) İşletmelerin pazardan daha fazla pay alabilmek için rekabet etme hakları

25. İşletmeler arasında karşılıklı güven esasına dayanan, yasal açıdan bağlayıcı nitelikte olmayan belli amaçların gerçekleştirilmesine yönelik yazılı veya sözlü anlaşmalar ne tür anlaşmalardır?

- A) Konsorsiyum
- B) Tröst Anlaşmaları
- C) Kartel Anlaşmaları
- D) Centilmenlik Anlaşmaları

26. Belirli bir vergideki artışın gelir dağılımı üzerindeki etkisi aşağıdaki yansıma yaklaşımlardan hangisinde doğru ifade edilmiştir?

- A) Mutlak Yansıma
- B) Biçimsel Yansıma
- C) Efektif Yansıma
- D) Fiili Yansıma

27. Mükelleflerin yasalara aykırı olmayan girişim ve uygulamalarıyla ödemeleri gereken vergi tutarını asgariye indirme çabaları aşağıdaki ifadelerden hangisi ile açıklanmaktadır?

- A) Asgari Vergi
- B) Vergiden Kaçınma
- C) Vergi Planlaması
- D) Vergi Kaçakçılığı

28. İktisat Politikasının temel bileşenleri olan para, gelirler ve maliye politikaları hakkında aşağıdaki bilgilerden hangisi yanlıştır?

- A) Para politikası, para otoritesinin kendi nihai amaçlarına ulaşabilmesi için gerekli belirli ekonomik büyüklükleri etkilemek amacıyla uyguladığı politikalarıdır.
- B) Gelirler politikası, hükümetin ekonomik istikrarı sağlamak üzere para politikasının dolaylı araçlarını kullanmaksızın ücret ve fiyatların ortaya çıkış süreçlerine doğrudan uyguladığı politikalarıdır.
- C) Maliye politikası, belirli ekonomik hedeflere ulaşmak için kamu harcaması, kamu gelirleri, borçlanma gibi kamu maliyesi araçlarını kullanarak uyguladığı politikalarıdır.
- D) Maliye Politikası kamu gelirleri ve harcamalarını kapsayan politikalar dizini iken para politikası para arzını ve borçlanmayı kapsayan unsurları, gelirler politikası ise ücretleri kapsar.

29. I- Klasik Toplam Arz Eğrisi yatay eksene dik olup fiyat hangi düzeyde olursa olsun aynı miktarda mal arz edileceği anlamına gelir.
II- Keynesyen Toplam Arz Eğrisi yatay eksene paralel olup veri fiyat düzeyinde ne kadar mal talep edilirse edilsin, bu talebin firmalarca karşılanacağı anlamına gelir.
III- Toplam Arz Eğrisi yatay ve ekonomi tam istihdam seviyesinin altında iken Toplam Talepte meydana gelen bir artış çıktı ve fiyat düzeyini etkiler, istihdamı etkilemez.
IV- Toplam Arz Eğrisinin Klasik Alanı boyunca Toplam Talepteki bir azalış yalnızca fiyat ve istihdam düzeylerini azaltacaktır, çıktı seviyesi etkilenmez.

Yukarıda verilen bilgilerden hangileri doğrudur?

- A) II ve III
- B) I ve II
- C) III ve IV
- D) II, III ve IV

30. Aşağıda verilen kavram ve tanım eşleşmelerinden hangisi yanlıştır?

- A) Mali Disiplin – Bir mali yıl içerisinde kamu gelirlerinin giderlerini finanse ederek kamu kesimi dengesinin korunması
- B) Para İkamesi – Ulusal sınırlar içerisindeki ulusal paranın güven sarsılması vs. gibi sebeplerden ötürü yabancı bir ülke parası ile ikame edilmesi
- C) İkiz Açık- Kamu kesimi borçlanma gereksiniminin bir önceki geçmiş ve bir sonraki dönemde sebebi ile içinde bulunacağı borçlanma gereksinimi
- D) Mali Kırılganlık – Mali araçların çeşitlenmesi ve yaygınlaşması sonucu likidite artışına bağlı olarak iktisadi birimlerin borçluluk seviyeleri artarken birbirlerine bağımlı hâle gelmeleri

31. Aşağıdakilerden hangisi bankanın fon kaynaklarından biridir?

- A) Mevduat
- B) Bankalar
- C) Krediler ve Alacaklar
- D) Satılmaya Hazır Finansal Varlıklar

32. Aşağıda birbirinden bağımsız olarak verilen durumların hangisinde dengesizlikteki faiz oranının artması beklenmektedir?

- A) Genel ekonomide ve de buna bağlı olarak insanların varlıklarında bir artış varsa
- B) Piyasadaki menkul değerlerin genel risk seviyelerinde bir azalma varsa
- C) Piyasalarda enflasyon beklentilerinde düşüş varsa
- D) Devletin bütçe açığında azalma varsa

33.

Aktif (milyon TL)		Pasif (milyon TL)	
Nakit Değerler ve Merkez Bankası	10.000	Mevduat Vadesi 1 yıldan az	40.000
		Vadesi 1 yıldan fazla	20.000
Bankalar	2.000	Para piyasalarına borçlar	20.000
Satılmaya Hazır Finansal Varlıklar	25.000	Muhtelif borçlar Vadesi 1 yıldan az	30000
		Vadesi 1 yıldan fazla	10000
Kredi ve Alacaklar Vadesi 1 yıldan az	30.000	Özkaynaklar	20000
Vadesi 1 yıldan fazla	70.000		
Maddi Duran Varlıklar	3.000		
Toplam	140.000	Toplam	140.000

Yukarıda ticari bir bankanın basitleştirilmiş bilançosu verilmiştir. Verilen bilgiler doğrultusunda faizler yıllık % 10'dan % 10,5'e çıkması konumunda bankanın net dönem kârında oluşacak değişim ne kadardır?

- A) Bankanın net dönem kârı 100 milyon TL azalacaktır.
- B) Bankanın net dönem kârı 110 milyon TL azalacaktır.
- C) Bankanın net dönem kârı 120 milyon TL azalacaktır.
- D) Bankanın net dönem kârı 115 milyon TL azalacaktır.

34. Taban fiyat uygulaması sonucunda oluşacak arz fazlasının miktarı aşağıdaki koşullardan hangisinde en çok olur?

- A) Taban fiyat seviyesinde hem talep hem de arz esneklikleri büyükse
- B) Taban fiyat seviyesinde hem talep hem de arz esneklikleri küçükse
- C) Taban fiyat seviyesinde arz esnekliği büyük, talep esnekliği küçükse
- D) Taban fiyat seviyesinde arz esnekliği küçük, talep esnekliği büyükse

35. Fayda fonksiyonu $U(x,y) = (xy)^{1/2}$ biçiminde olan bir tüketici fiyatları sırasıyla $p_x = 10$ TL / adet, $p_y = 5$ TL / adet olan mallara toplam 150 TL harcayacaktır. Mümkün olan en yüksek faydayı elde edebilmek için tüketici malların her birinden kaç adet satın almalıdır?

- A) x'den 5 adet, y'den 20 adet
- B) x'den 7.5 adet, y'den 15 adet
- C) x'den 10 adet, y'den 10 adet
- D) x'den 12.5 adet, y'den 5 adet

36. Marjinal tüketim eğilimi 0.8, marjinal ithalat eğilimi 0.3, marjinal yatırım eğilimi 0.1 olan bir ekonomide hükümet harcamaları 100 TL arttığında denge noktasındaki gelir düzeyi kaç TL artar?

- A) 1000
- B) 500
- C) 250
- D) 100

37. Kapalı bir ekonomide, mal piyasasında denge durumu söz konusu olduğunda aşağıdaki bilgilerden hangisi doğrudur?

- A) Tüketimler yatırımlara eşittir.
- B) Kişisel tasarruflar yatırımlara eşittir.
- C) Hükümet tasarrufları tüketime eşittir.
- D) Kişisel tasarruflar ve hükümet tasarrufları toplamı yatırımlara eşittir.

38. Sabit büyüme modelinin hisse senedi değerlendirilmesinde kullanımı aşağıdaki durumlardan hangisinde uygun değildir?

- A) Büyüme hızı beklenen getiriden büyükse
- B) Beklenen getiri sıfırdan büyükse
- C) Büyüme hızı sabitse
- D) Büyüme hızı sıfırsa

39. Bir firmanın toplam piyasa değeri 900 milyon TL, borçlarının piyasa değeri ise 300 milyon TL dir. Bu şirketin borç maliyeti % 8, öz kaynak maliyeti % 15, ve vergi oranı da % 25 ise bileşik sermaye maliyeti aşağıdakilerden hangisidir?

- A) % 8
- B) % 10
- C) % 10,7
- D) % 12

40. Aşağıdaki bonolardan hangisinin fiyat riski en azdır?

- A) 15 yıl vadeli, % 5 kupon faizli
- B) 5 yıl vadeli, % 10 kupon faizli
- C) 10 yıl vadeli, % 5 kupon faizli
- D) 15 yıl vadeli, % 10 kupon faizli

41. Aşağıdakilerden hangisi tekelci rekabet piyasasının özelliklerinden değildir?

- A) Fiyat üzerinde firmanın ürettiği ürün bazında kontrolü
- B) Firmalarda ürün farklılaştırılmasının oluşu
- C) Piyasada çok sayıda firma bulunması
- D) Piyasa giriş bariyerlerinin olmayışı

42. Toplam maliyet fonksiyonu

$M(Q_1, Q_2) = 75 - 0.25 Q_1 Q_2 + 0.1 Q_1^2 + 0.2 Q_2^2$ olan bir firmada üretilen iki ürün için Ürün 1 miktarı $Q_1 = 10$ ve Ürün 2 miktarı $Q_2 = 10$ olarak tanımlanmıştır. Bu fonksiyonla ilgili aşağıdakilerden hangisi doğrudur?

- A) Firmanın maliyet fonksiyonuna göre ölçek ekonomisi vardır.
- B) Firmanın maliyet fonksiyonuna göre ölçek ekonomisi yoktur.
- C) Firmanın maliyet fonksiyonuna göre kapsam ekonomisi vardır.
- D) Firmanın maliyet fonksiyonuna göre kapsam ekonomisi yoktur.

43. İki ayrı piyasa için üçüncü derece fiyat farklılaştırmasına giden bir firma hakkında aşağıdaki bilgiler (marjinal maliyet ve talep fonksiyonu) verilmiştir. (P=Fiyat, Q=Miktar)

Marjinal maliyet = 2 TL

Piyasa 1: $P = 14 - 2Q$

Piyasa 2: $P = 10 - Q$

Bu verilere göre kâr maksimizasyonu yapan bu firmanın toplam kârı ne kadardır?

- A) 34
- B) 32
- C) 24
- D) 22

44. Aşağıdakilerden hangisi endüstriyel pazarlar ile tüketici pazarları arasındaki belirgin farklılıklardan biri değildir?

- A) Müşteri sayısı
- B) Pazarlama iletişimlerinin etkisi
- C) Müşteri karar sürecinde göz önüne alınan kriterler
- D) Ağırlıklı olarak kullanılan pazarlama iletişimi yöntemleri

45. Aşağıdakilerden hangisi özellikli ürünler için diğerlerinden daha iyi bir örnektir?

- A) Üniversite B) Ekmek
C) Çikolata D) Karbonatlı içecekler

46. Aşağıdakilerden hangisi satış geliştirme yöntemlerinin son zamanlarda gittikçe daha da kullanılır olmasının başlıca sebeplerinden biridir?

- A) Diğer tutundurma yöntemlerinin daha masraflı olması
B) Kısa sürede satışları artırması
C) Uygulama kolaylığı
D) Rekabetin azalması

47.

	A malı	B malı	C malı
Türkiye	4 iş günü	5 iş günü	3 iş günü
Almanya	4 iş günü	4 iş günü	2 iş günü

Yukarıda verilen Ricardo tipi klasik tabloda iki ülkenin A, B ve C mallarının üretiminde gereksinim duydukları iş gücünü, iş günü cinsinden vermektedir.

Türkiye'de ücretlerin günlük 30 TL, Almanya'da ise günlük 40 € olduğunu, ve kuruşun da 1TL= 1 € olduğunu düşünürsek aşağıdakilerden hangisi doğru olacaktır?

- A) Türkiye A malını ihraç eder, B ve C mallarını ithal eder.
B) Türkiye C malını ihraç eder, A ve B mallarını ithal eder.
C) Türkiye A ve B mallarını ihraç eder, C malını ithal eder.
D) Türkiye B ve C mallarını ihraç eder, A malını ithal eder.

48. Bir ülkede cari işlemler açığı varsa aşağıdakilerden hangisi doğrudur?

- A) $Y-C+I+G > 0$ B) $S < I+(G-T)$
C) $I < S+ (T-G)$ D) $S+(G-T) - I < 0$

49. "Değişken kur rejiminde dünya faiz oranlarının artması o ülkenin kurunun ve büyük olasılıkla faiz oranının yol açar."

Yukarıdaki ifadede boş bırakılan yerlere sırasıyla aşağıdakilerden hangisi gelmelidir?

- A) değer kaybına / artmasına
B) değer kaybına / düşmesine
C) değer kazanmasına / düşmesine
D) değer kazanmasına / artmasına

50. 1980'li yıllarda Türkiye ekonomisinde sanayi mamul ihracatına dayalı önemli ihracat artışları gözlenmiştir. Aşağıdakilerden hangisi bu durumun ana nedenlerinden biri değildir?

- A) Artan ithal ara malı ve yatırım malı bağımlılığını finanse edecek dış kaynağın sağlanması
B) Serbest piyasa ekonomisi modelinin gereği olarak mevduat ve kredi faiz hadlerinin serbest bırakılması
C) Dış ticaret ve kambiyo rejimlerinin serbestleşmesi ve reel devalüasyonlarla birlikte ihracat teşviklerinin artması
D) Sıkı para ve maliye politikaları ile birlikte gelir dağılımının emek gelirleri aleyhine bozularak iç talebin kısılması

51. Türkiye ekonomisinde sermaye birikimi ve sermaye kaynaklarının kullanımı ile ilgili aşağıdakilerden hangisi doğru değildir?

- A) 1960-1980 döneminde ticari sermayeden sinai sermaye birikimine geçiş sürecinde ana rolü kamu kesimi oynamıştır.
B) 1980'li yıllardan başlayarak sermaye birikiminde kamunun payı azalmış, özel kesimin yatırım eğiliminde ise duraklama gözlenmiştir.
C) 1950'li yıllardan itibaren gözlenen tasarruf açığı, dış tasarruflarla kapatılmıştır. Ancak, 1998-2007 döneminde dış tasarruflar, ulusal tasarrufları kovalamış, onların yerine geçmiştir.
D) 1950'li yıllardan itibaren gözlenen tasarruf açığı, dış tasarruflarla kapatılmıştır. Dış tasarruflar, ulusal tasarruflara eklenerek sermaye birikimini arttırmıştır.

52. Aralık 1999'da uygulanmaya konan istikrar programının daha önce uygulanan istikrar programlarından en farklı yanlarından biri aşağıdakilerden hangisidir?

- A) Döviz kurunun enflasyon hedeflemesinde nominal çapa olarak kullanılması
- B) Kamu bütçesinde birincil fazla verilmesi gibi sıkı mali disiplin sağlanması için önlemler
- C) Ekonomik ve sosyal yapının neredeyse her alanını etkileyecek yapısal reformlar
- D) Program uygulanmadan önce yapılan büyük devalüasyon

53. Büyük bir bankanın döviz masasında çalıştığını varsayalım. Bugün bilgisayarınızı açtığınızda değişik bankalar tarafından aşağıdaki döviz kurlarından işlem yapılmakta olduğunu gözlemlediniz. Bankanız arbitraj işlemleri için 10.000.000 Türk Lirası kullanmanıza izin veriyor. Bu durumda aşağıdaki ifadelerden hangisi doğrudur?

1 İngiliz Sterlini	2,5 Türk Lirası
1 Rumen Leyi	0,5 Türk Lirası
1 İngiliz Sterlini	5,2 Rumen Leyi

- A) Bu döviz kurlarına göre piyasada arbitraj imkânı bulunmamaktadır.
- B) Bu döviz kurlarına göre piyasada üçgen arbitraj imkânı bulunmaktadır. Bunun için Türk Lirası ile Rumen Leyi, Rumen Leyi ile İngiliz Sterlini İngiliz Sterlini ile Türk Lirası almak gerekir. Bu işlem sonunda 2 milyon Türk Lirası kazanılır.
- C) Bu döviz kurlarına göre piyasada üçgen arbitraj imkânı bulunmaktadır. Bunun için Türk Lirası ile İngiliz Sterlini, İngiliz Sterlini ile Rumen Leyi ve Rumen Leyi ile Türk Lirası almak gerekir. Bu işlem sonunda 400.000 Türk Lirası kazanılır.
- D) Bu döviz kurlarına göre piyasada üçgen arbitraj imkânı bulunmaktadır. Bunun için Türk Lirası ile İngiliz Sterlini, İngiliz Sterlini ile Rumen Leyi ve Rumen Leyi ile Türk Lirası almak gerekir. Bu işlem sonunda 2 milyon Türk Lirası kazanılır.

54. Aşağıdakilerden hangisinin Amerikan dolarının Japon Yeni cinsinden bugünkü değeri üzerinde herhangi bir etkisi yoktur?

- A) Önümüzdeki 12 aylık dönemde Amerika ve Japonya'da gerçekleşmesi beklenen enflasyon oranları
- B) Geçtiğimiz 12 aylık dönemde Amerika ve Japonya'da gerçekleşmiş olan enflasyon oranları
- C) Önümüzdeki 12 aylık dönem için Amerika ve Japonya para piyasalarında geçerli olan nominal faiz oranları
- D) Önümüzdeki 12 aylık dönem için Amerika ve Japonya para piyasalarında kazanılması beklenen reel faiz oranları

55. Bugün bir Türk firmasının Fransa'daki bir proje için ihaleye girdiğini varsayalım. İhale sonucu 3 ay sonra belli olacak ve Türk şirketinin ihaleyi kazanması hâlinde ödeme Avro (Euro) olarak hemen o gün yapılacaktır. Bu Türk firması için döviz kuru riskini kontrol etmenin en iyi yolu aşağıdakilerden hangisidir?

- A) Türk şirketi ihaleye söz konusu olan Avro miktarını opsiyon piyasasında 3 ay vade ile satma hakkı almalıdır.
- B) Türk şirketi ihaleye söz konusu olan Avro miktarını opsiyon piyasasında 3 ay vade ile satın alma hakkı almalıdır.
- C) Türk şirketi ihaleye söz konusu olan Avro miktarını vadeli işlem piyasasında 3 ay vade ile satmalıdır.
- D) Türk şirketi ihaleye söz konusu olan Avro miktarını vadeli işlem piyasasında 3 ay vade ile satın almalıdır.

56. Kamu bütçesinin hazırlanması açısından aşağıdakilerden hangisi kamu gideri değildir?

- A) Mal ve hizmet alımları
- B) Bağış ve yardımlar
- C) İç ve dış borç faizleri
- D) Borç anapara ödemeleri

57. Aşağıdakilerden hangisi İç Kontrolün amaçlarından birisi olamaz?

- A) Her türlü mali karar ve işlemlerde usulsüzlük ve yolsuzluğun önlenmesi
- B) Kamu gelir, gider, varlık ve yükümlülüklerinin etkili, ekonomik ve verimli bir şekilde yönetilmesi
- C) Nesnel risk analizlerine dayanarak kamu idarelerinin yönetim ve kontrol yapılarının değerlendirilmesi
- D) Kamu idarelerinin kanunlara ve diğer düzenlemelere uygun olarak faaliyet göstermesi

58. Devlet harcamalarının reel olarak ve harcama türleri itibarıyla artmadığı bir durumda enflasyonu düşürmek amacıyla aşağıdaki hangi vergi oranının artırılması tercih edilmelidir?

- A) Kurumlar vergisi
- B) Katma değer vergisi
- C) Veraset ve intikal vergisi
- D) Ücret gelirlerinden alınan gelir vergisi

59. Bütçe açığının finansmanı için uzun vadeli dış borçlanmaya gidilmesi hangi durumda en az tercih edilebilir?

- A) Alınan borç tutarının gelecek nesillere fayda yaratacak yatırımlar harcamaları için kullanılması hâlinde
- B) Hükûmetin borç almak yerine vergileri artırması hâlinde borç alınan yılda yapılacak seçimde oy kaybına uğrayacağı için
- C) Küresel ısınma ve gelecekte doğal kaynakların maliyetinin artması nedeniyle gelecek nesillerin borçlanmanın yapıldığı zamandaki nesilden daha fakir olması hâlinde
- D) Borç servisi bütçe açıklarını artıracığı için

60. Aşağıdaki çarpanlardan hangisinin değerinin 1'e eşit olduğu varsayılır?

- A) Açık bütçe çarpanı
- B) Denk bütçe çarpanı
- C) Yatırım harcamaları çarpanı
- D) Transfer harcamaları çarpanı

61. "İnsanları görünüşüne göre değerlendirmenin yanlış olacağı" anlamını içeren atasözü aşağıdakilerden hangisidir?

- A) Sen ağa, ben ağa; inekleri kim sağa?
- B) Harman döven öküzün ağızı bağlanmaz.
- C) Esrik devenin çulu eğri gerek.
- D) Kepenek altında er yatar.

62. Aşağıdaki cümlelerin hangisinde büyük harflerin kullanımıyla ilgili bir yazım yanlış yapılmıştır?

- A) Tanzimat dönemi, birçok yeniliğin edebiyatımıza kazandırıldığı bir dönem olmuştur.
- B) Mozart'ın ünlü yapıtı "Saraydan Kız Kaçırma" Yıldız Sarayı'nda İstanbullu sanatseverlerle buluştu.
- C) Galata Köprüsü, tasarım olarak başka köprülerden pek farklı olmasa da kültürel değeri nedeniyle birçok esere konu olmuştur.
- D) Hale teyzemin edebiyata ve müziğe olan ilgisi ailenin tüm fertleri tarafından takdir görmüştür.

63. Aşağıdaki cümlelerin hangisinde anlatım bozukluğu vardır?

- A) Çukurova'nın bereketli toprakları insanı diriltiyor, ona yaşama sevinci veriyordu.
- B) Bize bir yer verilmesi için ilgililere başvurmuş fakat bir sonuç almış değiliz.
- C) Sözünü ettiğiniz olay, tekstil ihracatına getirilen kısıtlamalarla ilgili olsa gerek.
- D) Çocukların bahçedeki arı kovanına yaklaşmasını engelleyecek tedbirler almalısınız.

64. (I) Edebiyatımızın hâlihazırdaki en büyük sorunlarından birinin “eleştiri eksikliği” olduğunu düşünüyorum. (II) Sadece bugüne özgü değil aslında bu mesele, geçmişten bu yana en büyük zaafı olmuştur Türk edebiyatının. (III) Okuyucu yoksunluğunun da yazar azlığının da temelinde söz konusu noksanlığımız yatıyor olabilir. (IV) Okuma yazma oranı düşük toplumlarda dünya çapında tanınmış yazarlar yetişmediği gibi eleştirmensiz ortamlardan da kaliteli ürünler alınmaz.

Bu paragraftaki numaralandırılmış cümlelerin hangisinde “ihtimal” söz konusudur?

- A) I B) II C) III D) IV

65. “Yazdığına yüreğini koymayan yazar, kandırır da doyuramaz, seslense de uyaramaz.” diyen birine göre bir yazarda bulunması gereken özellik, aşağıdakilerden hangisidir?

- A) Tarafsızlık B) Özgünlük
C) Yaratıcılık D) İçtenlik

66. Birbirinden farklı A, B, C, ve D rakamları ile oluşturulan ve $A + C = B + D$ koşulunu sağlayan dört basamaklı en büyük ABCD sayısı için $A.B - C.D$ işleminin sonucu kaçtır?

- A) 15 B) 24 C) 30 D) 42

67.

+	m	n	k	x	m	n	k
m	.	.	.	m	.	.	18
n	.	.	10	n	12	.	.
k	.	.	.	k	.	.	.

“+”, “x” gerçek sayılar kümesinde kullandığımız toplama ve çarpma işlemleri olmak üzere m, n, k sayıları arasındaki bağıntılar tablolarda verilmiştir. Buna göre, k aşağıdakilerden hangisine eşittir?

- A) 9 B) 6 C) 3 D) 2

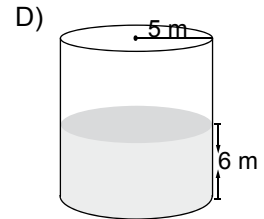
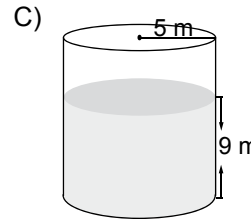
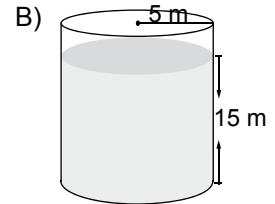
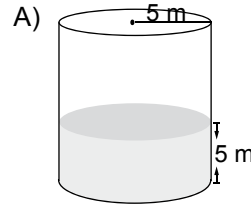
68. Etiket fiyatları 74, 70 ve 56 TL olan üç ürünü 3 al 2 öde kampanyasında satın alan bir kişi bu ürünleri en az % kaç ucuza almış olur?

- A) 28 B) 32 C) 35 D) 37

69. 2^{36} sayısının karekökü aşağıdakilerden hangisidir?

- A) 2^{35} B) 2^{18} C) 2^9 D) 2^6

70. Yarıçapının uzunluğu 5 m olan silindir şeklindeki bir deponun içinde 450 m^3 su vardır. Bu depo aşağıdakilerden hangisi olabilir? (π yerine 3 alınız.)



71. Aşağıdakilerden hangisi yenilenebilir enerji kaynaklarından biri değildir?

- A) Hidrojen Enerjisi B) Hidrolik Enerji
C) Nükleer Enerji D) Biyokütle Enerjisi

72. Türkiye Cumhuriyeti Hükümeti ile aşağıdaki ülkelerden hangisi arasında Akkuyu Sahası'nda bir nükleer güç santralının tesisine ve işletimine dair iş birliğine ilişkin bir anlaşma yapılmıştır?

- A) Fransa B) Japonya
C) Güney Kore D) Rusya Federasyonu

73. Nabucco Doğalgaz Boru Hattı Projesinde aşağıdaki ülkelerden hangisinin ortaklığı yoktur?

- A) Yunanistan B) Macaristan
C) Romanya D) Bulgaristan

74. Türkiye'de elektrik üretiminin kaynaklara göre dağılımında en fazla elektrik, aşağıdaki santrallerin hangisinden üretilmektedir?

- A) Hidrolik B) Kömür
C) Doğalgaz D) Jeotermal

75. • Estikleri yerlerde sıcaklığı arttıran rüzgârlardır.
• Akdeniz üzerinden kaynaklanarak, güneybatıdan Ege, Marmara ve Akdeniz kıyılarında etkili olan rüzgârlardır.
• Yağış oluşumuna sebep olarak ılıtıcı etki yaparlar.

Yukarıda özellikleri açıklanan rüzgârın adı aşağıdakilerden hangisidir?

- A) Yıldız B) Poyraz
C) Karayel D) Lodos

76. Asit yağmurlarının etkileriyle ilgili olarak aşağıdakilerden hangisi yanlıştır?

- A) Göllere ve akarsulara düşen asit yağmurları, sudaki asit dengesini bozar ve balıkları etkiler.
B) Havada bulunan sülfat solunum yoluyla alınmakta ve bronşit, astım, kanser gibi çeşitli hastalıklara neden olmaktadır.
C) Topraktaki alüminyumun çözülmesine neden olur ve ağaç köklerinin besinlerden faydalanmasını sağlar.
D) Mermer, kumtaşı veya kireçten yapılan ve içerisinde kalsiyum karbonat bulunduran tarihi eserlere zarar vermektedir.

77. Aşağıdaki Birleşmiş Milletlerin temel organlarından hangisinin merkezi New York dışındadır?

- A) Ekonomik ve Sosyal Konsey
B) Uluslararası Adalet Divanı
C) Güvenlik Konseyi
D) Vesayet Konseyi

78. • Gece körlüğünü önler.
• Enfeksiyonlara karşı direnci artırır.
• Cildin, tırnakların ve saçların sağlıklı kalmasını sağlar.
• Normal büyüme, üreme, kemik ve diş gelişimi, görme için gereklidir.

Yukarıda hangi vitamene ait özellikler sıralanmıştır?

- A) E B) D C) C D) A

79. Aşağıdaki hangi araçlara takılacak plakalarda zemin mavi, harf ve rakamlar beyazdan oluşur?

- A) Emniyet araçlarına
B) Resmî olmayan araçlara
C) Geçici plakalı araçlara
D) Büyükelçiliklerde görevli ve diplomatik muafiyeti olan kişilere ait araçlara

80. Bir ülke parasının, döviz piyasalarında başka bir ülke parası ile serbestçe değiştirilebilmesi ve uluslararası ticari işlemlerde değişim aracı olarak kullanılabilmesine ne denir?

- A) Moratoryum B) Konvertibilite
C) Devalüasyon D) Konsolidasyon

81. 3154 sayılı Enerji ve Tabii Kaynaklar Bakanlığının Teşkilat ve Görevleri Hakkındaki Kanun'a göre aşağıdakilerden hangisi Bakanlığının görevleri arasında yer almamaktadır?

- A) Yer altı ve yer üstü enerji ve tabii kaynaklar ile ürünlerinin üretim, iletim, dağıtım ve tüketim fiyatlandırma politikasını tayin ve gerektiğinde fiyatlarını tespit etmek
B) Bakanlığa bağlı ve Bakanlıkla ilgili kuruluşların çalışmalarını ve işlemlerini her bakımdan tetkik, tahkik ve teftişe tabi tutmak, gerekli her türlü emri vermek ve denetlemek
C) Su kaynaklarının korunmasına ve sürdürülebilir bir şekilde kullanılmasına dair politikalar oluşturmak, ulusal su yönetimini koordine etmek
D) Yenilenebilir enerji kaynaklarının değerlendirilmesi ve enerji verimliliğinin artırılmasına yönelik politikaların ve stratejilerin belirlenmesine yönelik çalışmalarda bulunmak

82. 3154 sayılı Enerji ve Tabii Kaynaklar Bakanlığının Teşkilat ve Görevleri Hakkındaki Kanun'a göre Bakandan sonra gelen en üst düzey kamu görevlisi aşağıdakilerden hangisidir?

- A) Müsteşar Yardımcısı
B) Bakan Yardımcısı
C) Bakanlık Müşaviri
D) Müsteşar

83. Enerji ve Tabii Kaynaklar Uzman Yardımcılığına atanarlardan süresi içinde tezlerini sunmayan veya tezleri kabul edilmeyenlere tezlerini sunmaları veya yeni bir tez hazırlamaları için en fazla ne kadar ilave süre verilir?

- A) 6 ay B) 8 ay C) 9 ay D) 1 yıl

84. Aşağıdakilerden hangisi Enerji ve Tabii Kaynaklar Bakanlığının yardımcı hizmet birimlerinden biridir?

- A) Basın ve Halkla İlişkiler Müşavirliği
B) Personel Dairesi Başkanlığı
C) Strateji Geliştirme Başkanlığı
D) Hukuk Müşavirliği

85. Aşağıdakilerden hangisi Enerji ve Tabii Kaynaklar Bakanlığı Yenilenebilir Enerji Genel Müdürlüğünün görevleri arasında sayılmamıştır?

- A) Sanayide ve binalarda enerjinin verimli kullanımı ile ilgili olarak farkındalık oluşturmak ve bu amaçla çalışmalar yürütmek
B) Yenilenebilir enerji kaynaklarının değerlendirilmesine ve enerji verimliliğinin artırılmasına yönelik projeksiyonlar ve öneriler geliştirmek
C) Enerji Verimliliği Koordinasyon Kurulu tarafından onaylanan enerji verimliliği uygulama projelerini ve araştırma ve geliştirme projelerini izlemek ve denetlemek
D) Enerji kaynaklarının yol açtığı çevresel kirlenmenin azaltılması konusunda ulusal ve uluslararası boyutlarda çalışmalar yapmak, bunu teşvik etmek

86. Aşağıdakilerden hangisi 3213 sayılı Maden Kanunu'na tabi bir maden değildir?

- A) Turba B) Bakır
C) Petrol D) Kil

87. 3213 sayılı Maden Kanunu'na göre denetim ve inceleme sonucunda, yaptığı üretim ve sevkiyatı bildirmedeği tespit edilen ruhsat sahiplerine, ödenmesi gereken Devlet hakkına ilaveten bildirilmeyen miktar için hesaplanacak Devlet hakkının kaç katı tutarında idari para cezası verilir?

- A) 5 B) 10 C) 15 D) 20

88. 3213 sayılı Maden Kanunu'na göre müracaat sahiplerinden maden ruhsatı için ilk müracaatın kabul edilmesini müteakip iki ay içerisinde aşağıdaki hangi belge istenmez?

- A) Arama Faaliyet Raporu
B) Mali Yeterlilik Belgeleri
C) Ön İnceleme Raporu
D) Maden Arama Projesi

89. Aşağıdakilerden hangisi 4628 sayılı Elektrik Piyasası Kanunu'nun amaçları arasında yer almaz?

- A) Tüketicilerin hak ve menfaatlerinin korunması
B) Şeffaf ve eşit taraflar arasında ayırım yapılması
C) Mali açıdan güçlü bir elektrik piyasasının oluşturulması
D) Piyasada kamu hukuku hükümlerine göre faaliyet gösterilmesi

90. 4628 sayılı Elektrik Piyasası Kanunu'na göre serbest tüketici limitini aşağıdakilerden hangisi belirler?

- A) Enerji Piyasası Düzenleme Kurulu
B) Türkiye Elektrik Dağıtım Anonim Şirketi
C) Enerji ve Tabii Kaynaklar Bakanlığı
D) Elektrik Üretim Anonim Şirketi

91. 4628 sayılı Elektrik Piyasası Kanunu'na göre gerçekleşen elektrik alım-satımları ile sözleşmeye bağlanmış miktarlar arasındaki farkları esas alarak piyasa faaliyeti gösteren tüzel kişilerin borçlu veya alacaklı oldukları tutarların belirlenmesine ilişkin mali uzlaştırma sistemi hakkında aşağıdakilerden hangisi yanlıştır?

- A) PMUM, kendi hesabına elektrik enerjisi ve/veya kapasite alım-satımı ile iştirak edemez.
B) Elektrik ticareti yapan tüzel kişiler aldıkları hizmet karşılığında PMUM'ye ücret öderler.
C) Mali uzlaştırma sistemi, enerji piyasalarını düzenlemekle görevli EPDK bünyesinde yer alan PMUM tarafından çalıştırılır.
D) Mali uzlaştırma sistemi, TEİAŞ bünyesinde yer alan Piyasa Mali Uzlaştırma Merkezi (PMUM) tarafından çalıştırılır.

92. 4646 sayılı Doğal Gaz Piyasası Kanunu'nda yer alan doğal gaz şehir içi dağıtım hizmetini sağlama işi aşağıdaki hangi Kurum tarafından açılacak ihaleyi kazanan şirkete verilir?

- A) EPDK B) Belediye
C) İl Özel İdareleri D) Kamu İhale Kurumu

93. 4646 sayılı Doğal Gaz Piyasası Kanunu'na göre ithalatçı şirketlerin, ithal yoluyla temin ettiği yıllık doğal gaz miktarı, Kurumca belirlenecek cari yıla ait ulusal gaz tüketim tahmininin yüzde kaçını geçemez?

- A)10 B) 20 C) 30 D) 50

94. 4646 sayılı Doğal Gaz Piyasası Kanunu'na göre aşağıdakilerden hangisi serbest tüketici değildir?

- A) Elektrik enerjisi üretimi için gaz satın alan şirketler
B) Elektrik ve ısı enerjisi üreten kojenerasyon tesisleri
C) Üretim faaliyetinde kullanılmak üzere, Türkiye'de doğal gaz üreten üretim şirketleri
D) Evsel tüketiciler

95. 5015 sayılı Petrol Piyasası Kanunu'na göre piyasada sürekliliğin sağlanması, kriz veya olağanüstü hâllerde risklerin önlenmesi ve uluslararası anlaşmalar gereği olağanüstü hâl petrol stokları ile ilgili yükümlülüklerin ifası amacıyla tutulması gereken ulusal petrol stoğu, bir önceki yıl günlük ortalama kullanımının içindeki net ithalatın en az ne kadardır?
- A) 30 günlük miktarı
B) 60 günlük miktarı
C) 90 günlük miktarı
D) 180 günlük miktarı
96. 5015 sayılı Petrol Piyasası Kanunu'na göre Dağıtıcı lisans sahipleriyle ilgili aşağıdakilerden hangisi yanlıştır?
- A) Dağıtıcıların kendi işlettiği istasyonlar aracılığı ile yaptığı satış, dağıtıcının toplam yurt içi pazar payının % 15'inden fazla olamaz.
B) Dağıtıcıların yurt içi pazar payı, toplam yurt içi pazarın % 30'unu geçemez.
C) Dağıtıcılar, başka akaryakıt dağıtıcılarının bayilerine dağıtım yapamazlar.
D) Dağıtıcı, kendi işlettiği istasyonlara bayi istasyonlarından farklı uygulama yapamaz.
97. 5015 sayılı Petrol Piyasası Kanunu'na göre Kaçak petrolün tespit ve tasfiyesine ilişkin aşağıdakilerden hangisi yanlıştır?
- A) Kaçak petrolün teknik düzenlemelere uygunluğunun tespiti, il özel idaresi tarafından belirlenen akredite laboratuvarlar tarafından yapılır.
B) Kaçak petrolden teknik düzenlemelere uygun olanlar, il özel idaresi tarafından en geç bir ay içinde açık artırma suretiyle satışı yapılarak tasfiye edilir.
C) Kaçak petrolden teknik düzenlemelere uygun olmayanlar, EPDK tarafından belirlenen usul ve esaslara göre ilgili il özel idaresi tarafından tasfiye edilir.
D) Kaçak petrol yakalandığında derhal el konulur ve yakalandığı ildeki il özel idaresine teslim edilir.
98. 5307 sayılı Sıvılaştırılmış Petrol Gazları (LPG) Piyasası Kanunu ve Elektrik Piyasası Kanununda Değişiklik Yapılmasına Dair Kanun'a göre aşağıdaki hangi faaliyet lisansa tabi değildir?
- A) LPG'nin dağıtımı ve taşınması
B) Otogaz bayilik faaliyeti
C) Tüplü LPG bayiliği
D) LPG'nin depolanması
99. 5307 sayılı Sıvılaştırılmış Petrol Gazları (LPG) Piyasası Kanunu ve Elektrik Piyasası Kanununda Değişiklik Yapılmasına Dair Kanun'a göre LPG piyasasına ilişkin olarak hangi tesislerde sorumlu müdür bulundurma zorunluluğu vardır?
- A) Rafineri ve tüp imalathaneleri
B) Rafineri ve depolama tesisleri
C) Depolama ve dolun tesisleri
D) Dolun tesisleri ve otogaz istasyonları
100. 5307 sayılı Sıvılaştırılmış Petrol Gazları (LPG) Piyasası Kanunu ve Elektrik Piyasası Kanununda Değişiklik Yapılmasına Dair Kanun'a göre aşağıdakilerden hangisi otogaz bayilerinin yükümlülükleri arasında değildir?
- A) İstasyonunda sadece sözleşmeli olduğu dağıtım şirketince ikmal edilen LPG'yi satmak
B) Otogaz istasyonlarında LPG tüpü dolunu ve satışı yapmak
C) İstasyonlarında sorumlu müdür çalıştırmak
D) Tek bir dağıtıcı ile sözleşme yapmak

TEST BİTTİ.

CEVAPLARINIZI KONTROL EDİNİZ.

SINAV SÜRESİNCE UYULACAK KURALLAR

1. Adaylar, sınav kurallarına ve salon görevlilerinin tüm uyarılarına uymak zorundadırlar. Kurallara ve uyarılara uymayan adayların sınavları geçersiz sayılacaktır.
2. Sınav başladıktan sonra adayların salon görevlileri ve birbirleri ile konuşmaları, kalem, silgi vb. şeyleri istemeleri yasaktır.
3. Adaylar sınav süresince, sınav giriş belgesi ile birlikte kimlik belgelerinden birini (nüfus cüzdanı, pasaport veya sürücü belgesini) masalarının üzerinde bulundurmamak zorundadırlar.
4. Sınav evraklarını teslim etmeyen, soru kitapçıklarının sayfalarından bir kısmını eksik teslim edenlerin sınavları geçersiz sayılacaktır.

SALON GÖREVLİLERİNCE SINAV BAŞLAMADAN ÖNCE ADAYLARA YAPILACAK SON UYARI

- Soracağınız bir şey var mı? Varsa şimdi sorunuz.
- Sınav başladıktan sonra sorularınıza cevap verilmeyecektir.
- Başlama zilini bekleyiniz.
- Hepinize başarılar dileriz.

(Salon başkanı başlama ve bitiş saatini tahtaya yazacaktır.)

Bu kitapçığın her hakkı saklıdır. Hangi amaçla olursa olsun, kitapçığın tamamının veya bir kısmının Millî Eğitim Bakanlığı Yenilik ve Eğitim Teknolojileri Genel Müdürlüğünün yazılı izni olmadan kopya edilmesi, fotoğraflarının çekilmesi, bilgisayar ortamına alınması, herhangi bir yolla çoğaltılması, yayımlanması veya başka bir amaçla kullanılması yasaktır. Bu yasağa uymayanlar, doğabilecek cezai sorumluluğu ve kitapçığın hazırlanmasındaki mali külfeti peşinen kabullenmiş sayılır.

**1 TEMMUZ 2012 TARİHİNDE YAPILAN
ENERJİ VE TABİ KAYNAKLAR BAKANLIĞI UZMAN YARDIMCILIĞI SINAVI
11. GRUP: İKTİSAT, EKONOMİ, İŞLETME, MALİYE
A SORU KİTAPÇIĞI CEVAP ANAHTARI**

1. C	26. A	51. D	76. C
2. D	27. C	52. A	77. B
3. B	28. D	53. C	78. D
4. A	29. B	54. B	79. A
5. D	30. C	55. A	80. B
6. C	31. A	56. D	81. C
7. D	32. C	57. C	82. D
8. B	33. D	58. B	83. A
9. A	34. A	59. C	84. B
10. C	35. B	60. B	85. D
11. A	36. C	61. D	86. C
12. B	37. D	62. A	87. B
13. D	38. A	63. B	88. A
14. B	39. D	64. C	89. D
15. C	40. B	65. D	90. A
16. A	41. D	66. C	91. C
17. B	42. C	67. B	92. A
18. D	43. A	68. A	93. B
19. C	44. B	69. B	94. D
20. A	45. A	70. D	95. C
21. B	46. B	71. C	96. B
22. D	47. C	72. D	97. A
23. C	48. D	73. A	98. C
24. A	49. A	74. C	99. D
25. D	50. B	75. D	100. B